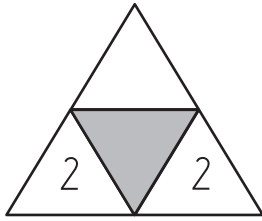
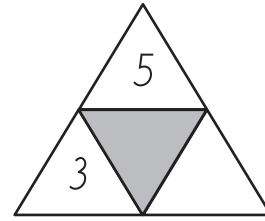


Puuttuva luku B

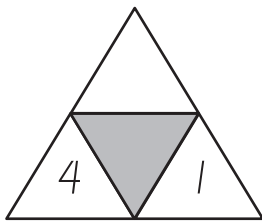
I. Merkitse, mikä luku kolmiosta puuttuu. Kirjoita lopuksi yhteenlasku.



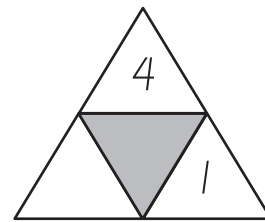
| | | | | |
|---|---|---|---|--|
| 2 | + | 2 | = | |
|---|---|---|---|--|



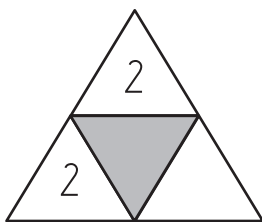
| | | | | |
|--|---|--|---|--|
| | + | | = | |
|--|---|--|---|--|



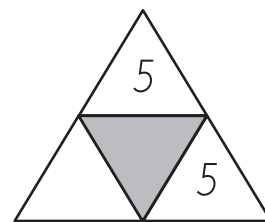
| | | | | |
|--|---|--|---|--|
| | + | | = | |
|--|---|--|---|--|



| | | | | |
|--|---|--|---|--|
| | + | | = | |
|--|---|--|---|--|



| | | | | |
|--|---|--|---|--|
| | + | | = | |
|--|---|--|---|--|



| | | | | |
|--|---|--|---|--|
| | + | | = | |
|--|---|--|---|--|