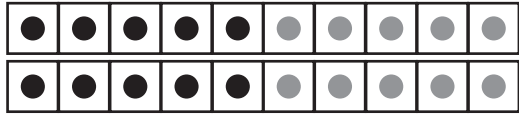




# Lisää tai vähennä kymmenen A

1. Kuinka monta pistettä on yhteensä? Lisää sitten 10 ja vähennä 10.

   $\begin{cases} \rightarrow \text{ lisää } 10 \\ \rightarrow \text{ vähennä } 10 \end{cases}$

   $\begin{cases} \rightarrow \text{ lisää } 10 \\ \rightarrow \text{ vähennä } 10 \end{cases}$

   $\begin{cases} \rightarrow \text{ lisää } 10 \\ \rightarrow \text{ vähennä } 10 \end{cases}$

2. Lisää lukuun 10 ja vähennä luvusta 10.

$\leftarrow$  vähennä 10      40       $\rightarrow$  lisää 10     

$\leftarrow$  vähennä 10      80       $\rightarrow$  lisää 10     

$\leftarrow$  vähennä 10      60       $\rightarrow$  lisää 10